


Physik

Elektrische Schaltkreise

Arbeitsauftrag:

1. Zeichne einen Schaltplan mit folgenden Bestandteilen.

a. Batterie, Leiter



b. Batterie, Leiter, Stromquelle



c. Batterie, Leiter, Stromquelle, offener Schalter



d. Batterie, Leiter, Stromquelle, geschlossener Schalter



Binogi



Lösungen
Arbeitsblatt – Physik
Elektrische Schaltkreise

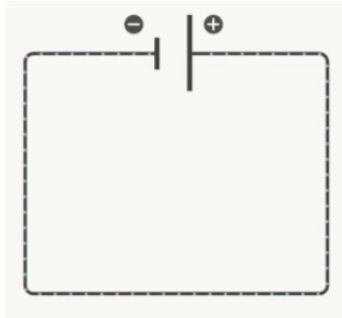
Physik

Elektrische Schaltkreise

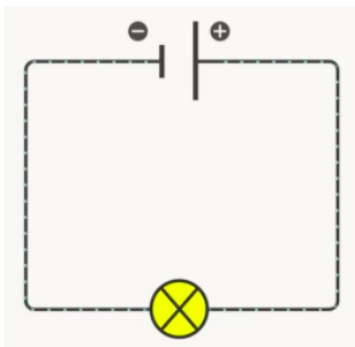
Arbeitsauftrag:

1. Zeichne einen Schaltplan mit folgenden Bestandteilen.

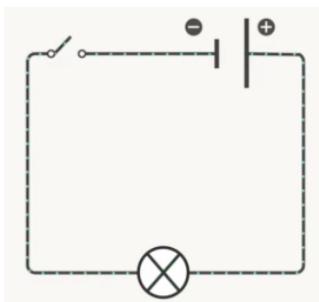
a. Batterie, Leiter



b. Batterie, Leiter, Stromquelle



c. Batterie, Leiter, Stromquelle, offener Schalter



d. Batterie, Leiter, Stromquelle, geschlossener Schalter

