

# Binogi



**Lösungen**  
**Arbeitsblatt – Physik**  
**Elektrische Schaltkreise**

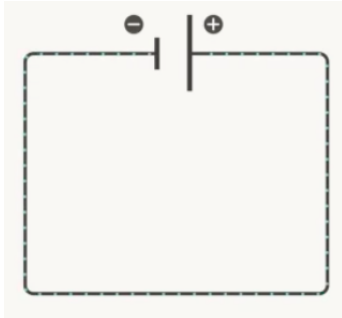
**Physik**

*Elektrische Schaltkreise*

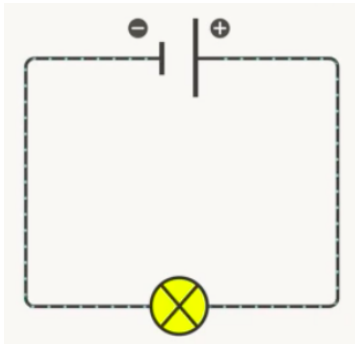
**Arbeitsauftrag:**

1. Zeichne einen Schaltplan mit folgenden Bestandteilen.

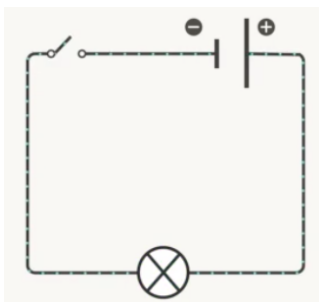
a. Batterie, Leiter



b. Batterie, Leiter, Stromquelle



c. Batterie, Leiter, Stromquelle, offener Schalter



d. Batterie, Leiter, Stromquelle, geschlossener Schalter

