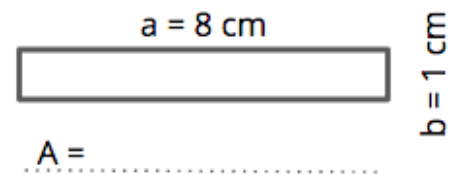
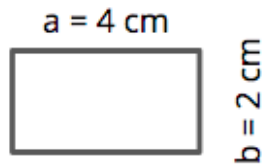
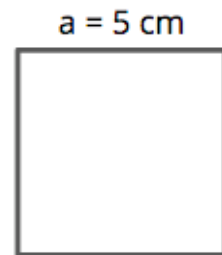

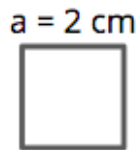
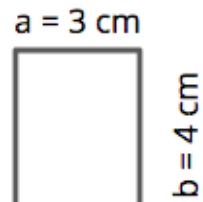
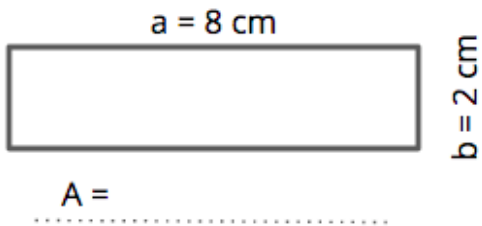


Mathematik

Quadrate und Rechtecke

Arbeitsauftrag:

1. Berechne den Flächeninhalt der Quadrate und der Rechtecke.



NOTIZEN

Binogi



Lösungen
Arbeitsblatt – Mathematik
Quadrate und Rechtecke

Mathematik

Quadrate und Rechtecke

Arbeitsauftrag:

1. Berechne den Flächeninhalt der Quadrate und der Rechtecke.

